



وزارة التربية  
إدارة الشؤون التعليمية  
مؤابية الامتحانات وشؤون الطلبة



نموذج الإجابة

المرحلة المتوسطة

اختبارات نهاية الفصل الدراسي الأول

المادة: الاجتماعيات

الصف: السادس

العام الدراسي

2016 / 2017

الإدارة العامة لمنطقة مبارك الكبير التعليمية مادة الاجتماعيات

الزمن : ساعة وخمس وأربعون

عدد الأوراق : ٥

للمستوى السادس المتوسط



السؤال الأول مكون من ( أ - ب - ج ) : ( لكل نقطة درجة )

( أ ) اختر للمجموعة ( أ ) ما يناسبها من المجموعة ( ب ) بوضع الرقم المناسب بين القوسين:

ص ٥٧

الرقم	المجموعة ( أ )	الرقم المناسب	المجموعة ( ب )
١	استقر القواسم في مدينة اسمها	(.....)	الكويت
٢	الدولة التي استقرت بها جماعة المعاضيد تسمى	( ٤ )	البحرين
٣	هاجرت جماعة اليعاربة والبوسعيد إلى دولة اسمها	( ٥ )	أبو ظبي
٤	هاجر آل خليفة إلى دولة اسمها	( ٢ )	قطر
٥	المدينة التي استقرت مجموعة بني ياس تسمى	( ٣ )	عمان
		( ١ )	رأس الخيمة

( ب ) صنف ما يلي كلاً حسب موقعه في الجدول:

( عسير - تهامة - جبال الزور - نجد - الربع الخالي ) ص ٢٣

صحراء	جبال	هضاب	تلال	سهول
الربع الخالي	عسير	نجد	جبال الزور	تهامة

( ج ) أكتب اسم المهنة القديمة المناسبة أسفل الصور التالية : ص ٢٩



صناعة البشوت



صناعة الخوص



السؤال الثاني يتكون من ( أ - ب )

( أ ) ظلل الكلمة التي لا تنتمي للمجموعة في المربعات التالية :

١- الدول الاستعمارية الأوروبية التي توالت على الخليج العربي : ص ٦٠

الإنجليزية	الهولندية
الأمريكية	البرتغالية

٢- المدن الأفريقية التي وصلت إليها تجارة الخليج العربي قديما : ص ٣٤

ممباسا	بومباي
مقديشو	زنجبار

٣- الأنشطة البحرية قديما : ص ٣١

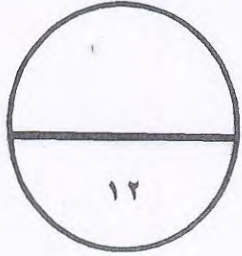
الرعي	صيد السمك
الغوص علي اللؤلؤ	صناعة السفن

٤- البضائع المستوردة إلي منطقة الخليج العربي قديما : ص ٣٥

التوابل	سكر
الشاي	التمور


٥- وسائل صيد السمك لسكان منطقة الخليج العربية قديما : ص ٣١

الحظرة	السنارة
القرقرور	الميدار

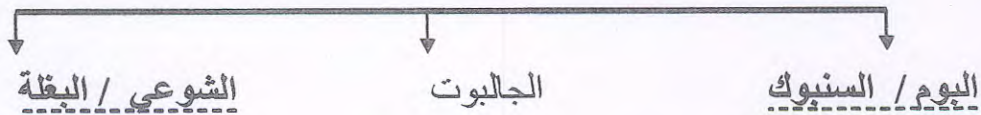


( ب ) أكمل المخططات السهمية التالية :

١- الهيكل التنظيمي لمجلس التعاون لدول الخليج العربية ص ٧٠



٢- أنواع سفن السفر ص ٣٣



٣- الأنشطة البرية في دول الخليج العربية ص ٢٨




السؤال الثالث مكون من ( أ - ب ) : ( لكل نقطة درجة )


( أ ) لاحظ خريطة شبه الجزيرة العربية ثم استخلص مدلولات الأرقام و الرموز التي عليها :



- صحراء النفود يمثلها على الخريطة الرقم ( ٢ ) ص ٢٣

- منطقة الهدار يمثلها على الخريطة الرمز .....  ..... ص ٥٩

- الجبل الأخضر  يمثلها على الخريطة الرقم ( ٣ ) ص ٢٣

- سهل الأحساء  يمثلها على الخريطة الرقم ( ٦ ) ص ٢٣

- بحر العرب يمثلها على الخريطة الرقم ( ٤ ) ص ٢٣

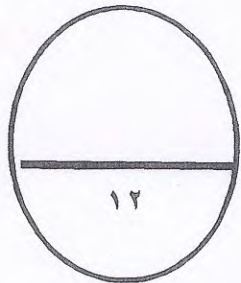
( ب ) صنف ما يلي في الجداول التالية:

١- الهلنستية - مجان - دلمون ص ٤٩

الدولة	الكويت	بحرين	عمان
الحضارة	الهلنستية	دلمون	مجان

٢- الطواش - النهام - النوخة - المجدي ص ٣٢

طاقم السفينة	ربان السفينة	رئيس البحرية	مطرب السفينة	تاجر اللؤلؤ
المهنة	النوخذة	المجدي	النهام	الطواش





السؤال الرابع مكون من ( أ - ب ) : ( لكل نقطة درجة )

( ب ) قارن بين خطوط الطول ودوائر العرض من خلال الجدول التالي : ص ١٩

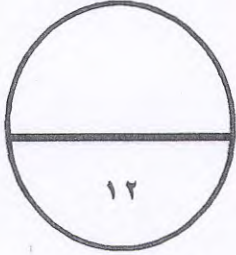
وجه المقارنة	دوائر العرض	خطوط الطول
التعريف	خطوط وهمية تُرسم على الكرة الأرضية وتقسّمها إلى قسمين شمالي وجنوبي.	خطوط وهمية تُرسم على الكرة الأرضية وتقسّمها إلى قسمين شرقي وغربي.
الخط الرئيسي	خط الاستواء	خط غرينتش

( ب ) أكتب في نقطتين عما يلي:

١- أهداف مجلس التعاون لدول الخليج العربية . ص ٧٦

تحقيق التعاون في جميع المجالات / ، تحقيق الترابط والصلات بين دول المجلس-

العمل على تقدم دول المجلس التعاون في المجال العلمي.



٢- الصفات المشتركة بين دول مجلس التعاون لدول الخليج العربية . ص ٧٠

وحده التراث - انظمه متشابهه - الانتماء - وحده الدين - المصالح المشتركة

٣- مظاهر الحضارة الإسلامية ص ٥٥

الصناعة / الفن / العمران

( ج ) : لاحظ صورة اتفاقية إلغاء الحماية التي وقعت بين دولة الكويت وبريطانيا ثم أجب عن الأسئلة : ص ٦٣

١- ما اسم حاكم دولة الكويت في الصورة ؟

الشيخ عبدالله السالم الصباح

٢- ما المقصود بمفهوم الاستقلال ؟

تحرر الدولة من المستعمر الأجنبي وقيامها

بمسؤولية الدولة عن إدارة شؤونها الداخلية والخارجية .



السؤال الخامس مكون من ( أ - ب ) : ( لكل نقطة درجة )

( ب ) أقرأ الفقرة التالية ثم أجب عما يليها من أسئلة : ص ٢٥

يتشابه مناخ دول الخليج العربية ويتصف بأنه صحراوي قاري حيث ترتفع درجة الحرارة صيفا إلى أكثر من ٤٠ درجة مئوية بينما تنخفض شتاءً إلى أقل من ٤ درجات مئوية وفصل الصيف طويل معظم شهور السنة و فصل الشتاء قصير جدا ودافئ وتهب علي دول الخليج العربية ثلاث أنواع من الرياح ،بينما الأمطار نادرة))

١- اكتب نوعين من أنواع الرياح الثلاث التي تهب علي دول الخليج العربية . ( يكتفى بنقطتين )

الرياح الشمالية / الرياح الجنوبية الشرقية (الكوس) / الزوايع الترابية ( العواصف )

٢- ما هي مميزات مناخ دول الخليج العربية في فصل الصيف ؟ ( يكتفى بنقطتين )

فصل طويل وهو حار / جاف / رطب بالمناطق الساحلية

( ب ) علل ما يلي :

١- انصراف أهل الخليج العربي عن حرفة الغوص علي اللؤلؤ ص ٣١

ظهور اللؤلؤ الصناعي / اكتشاف النفط

٢- توافر النباتات المعمره طوال العام في دول الخليج العربية ص ٢٦

تتحمل الجفاف وارتفاع درجة الحرارة ،جنورها طويلة وقلة أوراقها وكثرة الأشواك فيها وقدرتها على تخزين المياه

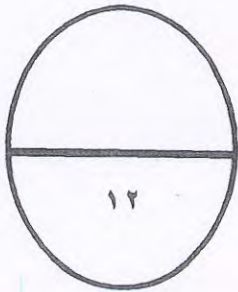
٣- نشأة الحضارات في منطقة الخليج العربي. ص ٥١

الموقع / توافر المياه / ملائمة البيئة الطبيعية

( ج ) عرف المفاهيم التالية

١- الموقع النسبي : الموقع بالنسبة للماء واليابس ص ٢٠

٢- الاستعمار : أن تسيطر دولة قوية على دولة ضعيفة بهدف استغلال موقعها و مواردها ص ٦١



انتهت الأسئلة ..... بالتوفيق و النجاح